


嘉義市 111 學年度國民中學藝術才能班術科測驗試卷(公告用)

科目：國中樂理及音樂基本常識

一、音名 10% 請寫出下列各音的音名(音名名稱：C、D、E、F、G、A、B)。(每題 2 分，共 10 分)




例： (C)	1. ()	2. ()	3. ()	4. ()	5. ()
----------	-----------	-----------	-----------	-----------	-----------

二、音程 10% 請在指定音上方加音，使其成為指定的音程。(每題 2 分，共 10 分)

1. 小三度 2. 完全八度 3. 減四度 4. 小六度 5. 增二度



三、和絃 20% 請寫出下列和絃的完全名稱，例如：(大三)和絃。(每題 2 分，共 20 分)



()	()	()	()	()	()	()	()	()	()
和絃	和絃	和絃	和絃	和絃	和絃	和絃	和絃	和絃	和絃

四、配合題 10% (每格 2 分，共 10 分)

中國歷代宮廷的典禮、祭祀或民俗慶典，皆可見到傳統樂器的演奏。下列中國傳統樂器依據演奏方式分別屬於那種類型，請將分類代號填入括弧中。

A：吹管樂器

B：拉弦樂器

C：彈撥樂器

D：擊樂器

樂器：	三弦	二胡	小鈸	笙	大鑼
分類代號：	()	()	()	()	()

五、畫出小節線及終止線 10% 請依照指定的拍號，畫上小節線及終止線。(每格 2 分，共 10 分)




六、音樂常識 40% (每題 2 分，共 40 分)

- () 1. 阿倫在嘉義市政府文化局的宣傳網站上看到一則資訊，上面寫著「為紀念聖桑仙遊天際 100+1 週年，我們將演出聖桑的系列作品。」請問下列哪首樂曲是聖桑的作品？
 (1)《小星星變奏曲》 (2)《動物狂歡節》 (3)《鬥牛士進行曲》 (4)《彼得與狼》
- () 2. 宜靜最近看到烏俄戰爭的相關新聞報導時，想起曾聽過的幾位著名的俄國音樂家，請問下列何者並非俄國音樂家？
 (1)德弗乍克 (2)柴科夫斯基 (3)普羅科菲夫 (4)穆梭斯基
- () 3. 下列何者速度記號是表示音樂的速度逐漸加快？
 (1)rit. (2)a tempo (3)accel. (4)rubato

- () 4. 小婕在佈告欄上看到一張音樂會宣傳海報，上面的節目名稱為銅管家族音樂會，演出曲目皆為耳熟能詳的古典音樂名曲。請問小婕若去欣賞音樂會，應該會看見下列哪一項樂器？
(1)長笛 (2)長號 (3)豎笛 (4)低音管
- () 5. 奧地利作曲家海頓自小家境貧苦，但仍努力學習，展現非凡的音樂才能，而後成為當時歐洲知名的音樂家。其豐富的器樂作品讓後輩音樂家視為典範，而被尊稱為？
(1)音樂之父 (2)鋼琴詩人 (3)交響曲之父 (4)藝術歌曲之王
- () 6. 去年東京奧運比賽時，因舉重代表選手郭婞淳勇奪金牌，讓頒獎典禮上不僅有我國奧會會旗在場上飄揚，現場更是響起國旗歌的旋律，讓不少人感到既激動又驕傲。我國國旗歌為四拍子的樂曲，請問下列那一首樂曲並非四拍子的樂曲？
(1)〈小星星〉 (2)〈小蜜蜂〉 (3)〈歡樂歌〉 (4)〈生日快樂歌〉
- () 7. 德布西的作品經常出現違反規則的不尋常和聲，成就他開創音樂新風格的基礎，而成為 20 世紀音樂的拓荒者。請問下列那一個作品為德布西所作的？
(1)《牧神午後前奏曲》 (2)《藍色多瑙河》 (3)《天鵝湖》 (4)《大學慶典序曲》
- () 8. 雙簧樂器的吹嘴是結合兩片簧片而製成的，請問下列哪一項樂器並非屬雙簧樂器？
(1)雙簧管 (2)低音管 (3)英國管 (4)豎笛
- () 9. 請問下列譜例中的裝飾音名稱為何？



- (1)順迴音 (2)逆迴音 (3)短倚音 (4)長倚音
- () 10. 北管音樂的樂曲種類多樣而豐富，主要的演出方式是樂團合奏，樂團形式分成鼓吹樂與絲竹樂。請問下列哪一項樂器是屬於絲竹樂？
(1)堂鼓 (2)月琴 (3)拍板 (4)梆子
- () 11. 阿凱在網路上看到一齣精湛的歌劇演出，裡頭的歌曲也讓人留下深刻的印象。歌曲除了有帕帕基諾所演唱的〈快樂的捕鳥人〉，還有擁有高超技巧的夜后所演唱的〈復仇的火焰〉。請問阿凱看到的是下列哪一齣歌劇？
(1)《女人皆如此》 (2)《魔笛》 (3)《杜蘭朵公主》 (4)《胡桃鉗》
- () 12. 請問下列樂譜總共有幾個降 Si？



- (1)3 個 (2)4 個 (3)5 個 (4)6 個
- () 13. 〈輕騎兵序曲〉是一首管絃樂作品，描寫軍隊騎馬出征、奮勇抗敵的英姿。請問〈輕騎兵序曲〉是由下列哪一位作曲家所寫的？
(1)德弗乍克 (2)舒伯特 (3)布拉姆斯 (4)蘇佩
- () 14. 呂泉生是臺灣作曲家，年輕時赴日學習音樂，回臺後除了從事音樂教學外，也致力於歌曲創作、合唱教學與採集彙編臺灣民謠。請問下列哪一首樂曲並非呂泉生所作的？
(1)《搖嬰仔歌》 (2)《臺灣素描》 (3)《杯底不可飼金魚》 (4)《阮若打開心內的門窗》
- () 15. 下列何種銅管樂器因音色柔和溫暖，而出現在木管五重奏的編制中？
(1)小喇叭 (2)長號 (3)法國號 (4)低音號
- () 16. 「南管音樂」是台灣具代表性的古典音樂之一，其對樂器的使用有嚴格的限制與規定，其中「下四管」的樂器為？
(1)打擊樂器 (2)拉絃樂器 (3)彈撥樂器 (4)吹管樂器
- () 17. 「簪鈴」是台灣哪個原住民族特有的傳統樂器，在矮靈祭時有避邪招福、淨化靈界空間之用？
(1)撒奇萊雅族 (2)噶瑪蘭族 (3)太魯閣族 (4)賽夏族
- () 18. 一生都對祖國波蘭懷抱著濃厚的思念，這種情緒反映在他的作品上，如〈波蘭舞曲〉和〈馬厝卡舞曲〉就具有民族風格與情感，代表作品有〈練習曲〉、〈夜曲〉等作品。請問上述敘述是指下列哪一位音樂家？
(1)蕭邦 (2)比才 (3)舒曼 (4)拉威爾
- () 19. 英國國王喬治二世聽到〈哈利路亞〉時身受感動，因而起立致敬。請問〈哈利路亞〉是來自於下列哪一齣神劇？
(1)《橄欖山上的基督》 (2)《以利亞》 (3)《彌賽亞》 (4)《創世紀》
- () 20. 下列術語排列由快到慢，何者正確？
(1)Andante、Adagio、Allegro (2)Adagio、Allegro、Andante (3)Allegro、Adagio、Andante
(4)Allegro、Andante、Adagio